

<範圍：課本第34~59頁>

【劃卡代號：52】

班級：

座號：

姓名：

參考範例：

※答案卡限用 2B 鉛筆劃記，答案請劃記明確；若有劃記錯誤，請擦拭乾淨。分數以電腦讀卡分數為準。

※請作答於答案卷上，考試完畢僅繳交答案卷，請不要填錯格。

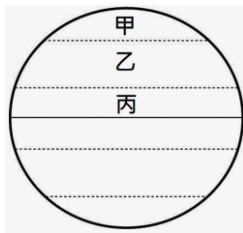
一、選擇題(第 1 題 4 分，第 2~33 題 3 分，滿分 100)

1. 全球氣候是受到眾多因素影響而成，下列關於各因素及其產生影響的敘述，何者「錯誤」？

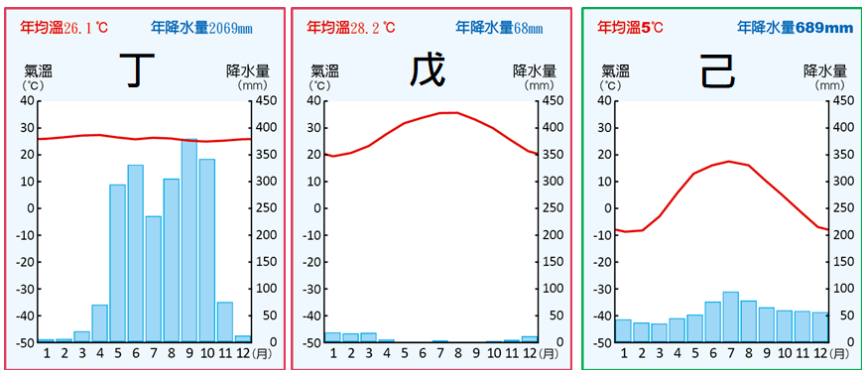
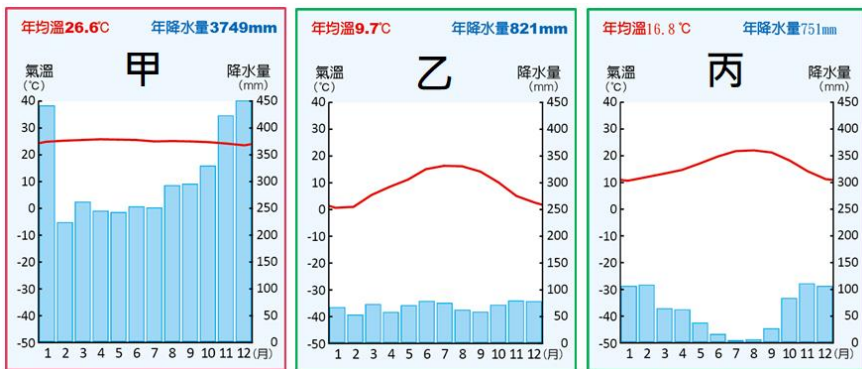
- (A) 受緯度影響，可分為熱帶、溫帶及寒帶
- (B) 地勢高低與氣溫成反比，與氣壓成正比
- (C) 暖流流經處較暖濕，寒流流經處較冷乾
- (D) 距海愈近年溫差愈小，降水量通常較多

2. 右圖為全球氣候區畫分圖，由圖中的「甲」氣候區往「丙」氣候區移動，最可能見到下列哪個現象？

- (A) 年溫差愈小 (B) 降水量愈少
- (C) 植被愈稀疏 (D) 人口愈密集



※下列為各式氣候類型圖，請參考下圖回答第 3~7 題：



3. 下列關於圖中各氣候成因與特色的敘述，何者正確？

- (A) 甲：太陽直射形成高壓籠罩，故終年高溫多雨
- (B) 乙：寒流流經及西風影響，年溫差小全年有雨
- (C) 丙：夏季低壓籠罩，冬季西風吹拂，夏乾冬雨
- (D) 己：距海較遠缺乏調節，夏雨冬乾，年溫差大

4. 老柯退休後至西亞旅遊，途經位於地中海的島國賽普勒斯，發此地氣候與臺灣大不相同。夏季炎熱乾燥，平均氣溫 28~35°C，冬季溫和濕潤，氣溫 4~10°C。因雨季與生長季無法配合，農產以耐旱的柑橘類為主。根據上文判斷，哪張氣候圖最符合賽普勒斯的特色？

- (A) 乙 (B) 丙 (C) 丁 (D) 己

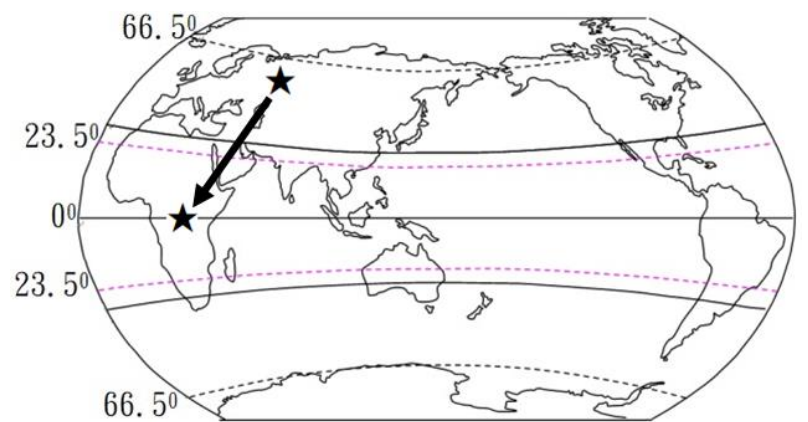
5. 下表為某地一年四季的天氣變化，根據下表判斷，該地點最適合用哪張氣候圖來表示？

- (A) 甲 (B) 丙 (C) 丁 (D) 戊

日期	當天最高/低溫	降水量	備註
12/24	24~30°C	5 mm	早晨及午後雷陣雨
02/21	25~31°C	0 mm	午後雷陣雨
05/19	24~29°C	156mm	午後雷陣雨
08/22	22~28°C	100mm	早晨及午後雷陣雨

6. 老柯決定騎單車挑戰下圖中★→★的行程，他騎車的途中，依序會經過那些氣候區？

- (A) 甲丁戊己 (B) 甲戊丁丙 (C) 己丙乙甲
- (D) 己戊丁甲



7. 下列關於「戊」圖的敘述，何者正確？

- (A) 全年高溫，年溫差小但日溫差大
- (B) 位於盛行西風背風側故乾燥少雨
- (C) 水源有限，採行粗放的耕作方式
- (D) 受氣候影響，傳統建築如右圖



8. 下圖(一)為某宗教全球大型集會活動

的參與者來源國及其人數，下圖(二)為亞洲分區圖。參考圖(一)資料，該宗教活動最可能為下列何者？

- (A) 至丁地悼念基督受難日 (B) 至丙地慶祝印度排燈節
- (C) 至乙地進行伊斯蘭朝覲 (D) 至甲地參與佛教浴佛節

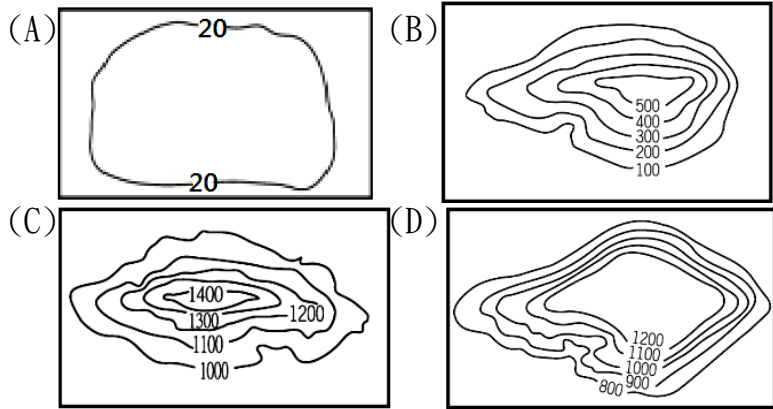
圖(一)

國家	人數	國家	人數
沙烏地阿拉伯	600,108	伊朗	86,500
印尼	221,000	土耳其	79,000
巴基斯坦	179,210	奈及利亞	79,000
印度	170,000	阿爾及利亞	36,000
孟加拉	127,198	摩洛哥	31,000
埃及	108,000	其他	635,106

圖(二)



9. 下列何圖最能代表西亞的地形主體？



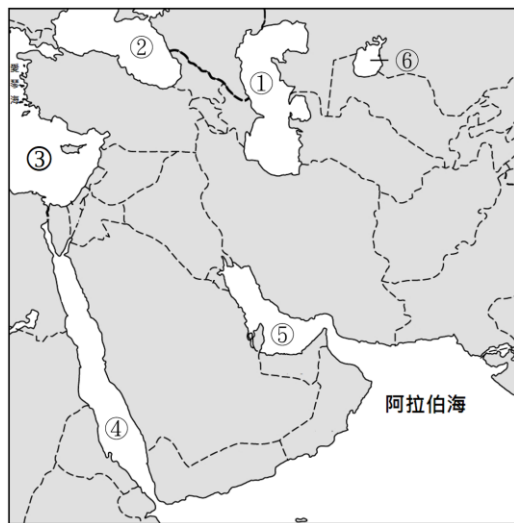
※右圖為中亞及西亞水域位置分布圖，請根據下圖回答第 10~14 題：

10. 圖中哪個水域位於板塊交界，為斷層陷落而成？

- (A) ② (B) ③
(C) ④ (D) ⑤

11. 蘇伊士運河連接圖中哪兩處水域，為印度洋往大西洋的交通要道？

- (A) ①② (B) ②③
(C) ③④ (D) ④⑤



12. 該處為全世界面積最大的鹹水湖，近年因發現石油及天然氣而備受關注。上文指的是圖中哪個湖泊？

- (A) ① (B) ② (C) ④ (D) ⑥

13. 圖中哪些海域沿岸為西亞年降水量最多的地區？

- (A) ①② (B) ①⑥ (C) ②③ (D) ④⑤

14. 承上題，這些地區主要降水季節及盛行風向為何？

- (A) 夏季：季風 (B) 冬季：信風 (C) 夏季：西風
(D) 冬季：西風

15. 2023 年 2 月 6 日凌晨，土耳其東南部靠近敘利亞邊境處發生強烈地震，造成 2 萬多人死亡，多人受傷。導致此處地震頻繁的原因為何？

- (A) 河流沖積使土質鬆軟 (B) 高壓籠罩故氣候乾燥
(C) 超抽地下水地層下陷 (D) 板塊交界地質不穩定

16. 右圖為某組織的代表旗幟，下列關於該組織的敘述何者正確？

- (A) 可與西方石油公司相輔相成
(B) 成立目的在維護產油國利益
(C) 該組織成員國皆位於西亞及非洲
(D) 成立後即有效控制世界油價波動




17. 下列文化特色何者是受到當地氣候及伊斯蘭教信仰影響而成？

- (A) 建築具斜頂、小窗及少窗、厚牆等特色
(B) 傳統服裝以通風涼爽的短褲及涼鞋為主
(C) 阿聯酋航班菜單不提供豬肉料理及酒精
(D) 駱駝為重要財產也是陸上主要交通工具

※右圖為西亞主要地形分布圖，請參考右圖回答第 18~20 題：

18. 當地居民為適應環境，發展出因地制宜、農牧並重的生活方式，下列關於其傳統產業活動的敘述何者正確？

- (A) 耐熱耐旱的椰棗為重要作物
(B) 山牧季移多分布於圖中乙地
(C) 水源有限土地利用相當粗放
(D) 丙地常見如右圖的圓形農田



19. 圖中何處的水源是來自山上雪水融化滲入地下水層後，經由地下水道將地下水引到綠洲灌溉發展農業？

- (A) 乙 (B) 丙 (C) 丁 (D) 戊

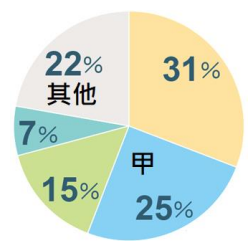
20. 右圖為在塑膠水管鑽孔，將水通運細孔直接送到植物根部的灌溉方式，下列關於此種灌溉方式的敘述何者正確？



- (A) 水源多來自海水淡化 (B) 可能導致土壤鹽鹼化
(C) 多雜草增加生產成本 (D) 主要分布於圖中戊地

21. 右圖為世界宗教人口比例圖，下列關於圖中「甲」宗教的敘述，何者「錯誤」？

- (A) 穆罕默德為該宗教信仰唯一真神
(B) 主要分布西亞、中亞及北非等地
(C) 信仰該宗教的教徒稱為「穆斯林」
(D) 該宗教名「伊斯蘭」指和平及順從



22. 以下為非穆斯林居住在杜拜的分享：「到了這個月，想在辦公室這種半開放空間吃東西，須先禮貌地詢問穆斯林同事是否介意？我以前一個同學就不太希望我們在實驗室吃東西，為了尊重他，整個月我們都得偷偷跑進廁所喝水…」由上文可知，當時作者的同事及同學正在進行五功中的哪項？

- (A) 禮 (B) 齋 (C) 課 (D) 朝

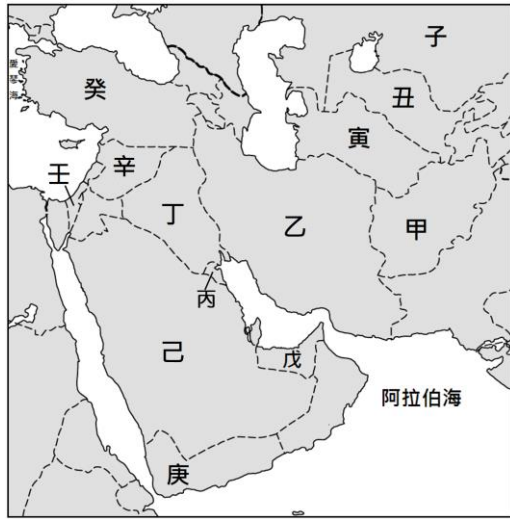
23. 「在我肥沃土壤之下，蘊藏石油還有白銀/我在阿瓦辛與蒙祖爾，誕生自底格里斯河與幼發拉底河/我是空中的雄鷹，是高原山上的風，是一千年的負荷，使我深受重傷，我們是囚犯，在籠中倍受傷害，我手持太陽，是保護，是抵抗，希望明天的獨立，明天的我是解放」上文是來自西亞某民族的饒舌歌，該民族擁有自己的語言、土地、文化，卻被 6 個不同國家分治，至今無法獨立，該民族指的是？

- (A) 猶太人 (B) 庫德族 (C) 波斯人 (D) 亞美尼亞人

24. 受到國際政治、經濟及文化的衝擊，西亞各國逐漸進行現代化。下列何者「並非」西亞各國推行現代化的內容？

- (A) 陸續開放女性投票權 (B) 女性可單獨駕車上路
(C) 餐廳內禁止異性同坐 (D) 女性可參與運動賽事


※下圖為西亞及中亞國家分布圖，請參考下圖回答第 25~29 題：



25. 「Jerusalem(和平之城)」，這裡是一個神的殿堂、兩個民族的首都、三大宗教的聖地，唯一擁有天國和塵世兩種存在維度的都市。據說，亞伯拉罕、大衛、耶穌和穆罕默德都曾佇足在這裡的石頭上。亞伯拉罕諸教在此誕生，末日審判時世界也將在此終結。現實中，它是一個興旺過，萎縮過，被重建、被摧毀過許多次，不斷變化的都市。這個「和平之城」目前位於圖中何國？

- (A)丙 (B)己 (C)辛 (D)壬

26. 為避免經濟過度依賴石油，西亞國家努力朝向多元發展。某國即以各式奇特建築(如右圖)來吸引觀光客，某國指的是？



- (A)乙 (B)丙 (C)戊 (D)庚

27. 圖中的辛、壬等國雖不產石油，但仍因周圍產石油的國家而間接獲利，其獲利來源為何？

- (A)鼓勵人民至產油國工作再將收入匯回國內
(B)獨創淨化廢水技術，成為產油國重要水源
(C)農業技術先進，將剩餘農產外銷至產油國
(D)因輸油管經過及控制石油輸出港口而獲利

28. 哈薩克坐擁豐富石油、天然氣與礦產，電力成本相對低廉，政府在 2022 年 1 月鬆綁液化石油氣價格上限，導致廣為民眾使用的「窮人汽車燃料」價格一夕翻倍，點燃民怨。民眾上街頭抗議，當局向俄羅斯要求派兵入境平亂，導致 164 人無辜喪命，近 8 千人被捕。俄羅斯長期把中亞地區視作自家戰略後院，經此舉動，預料將進一步向俄靠攏。但中國與哈薩克能源貿易關係密切，是該國最大外資國，美國同樣對哈薩克油氣產業投下巨資。哈薩克成為美中俄最新角力場…。哈薩克位於圖中何處？

- (A)甲 (B)子 (C)丑 (D)寅

29. 老師上課播放介紹博斯普魯斯海峽、土耳其浴、咖啡占卜的影片，若欲親身體驗上述特色，在跨歐亞兩洲的都市吹海風、吃烤肉，應至圖中何處？

- (A)乙 (B)辛 (C)壬 (D)癸

※鹹海曾是世界第四大淡水湖，上世紀蘇聯在此推行強硬的農業政策，引阿姆河和錫爾河水源灌溉中亞的荒漠草原，以提高某經濟作物的產量，導致水位下降，引發一連串的環境問題，曾經以漁業為主的沿岸都市也因此凋零。請參考上文回答第 30~32 題：

30. 文中提到的經濟作物最可能為下列何者？

- (A)棉花 (B)油棕 (C)咖啡 (D)茶樹

31. 中亞乾燥氣候的成因與下列何地相同？

- (A)北非撒哈拉沙漠 (B)阿拉伯半島沙漠
(C)印度的塔爾沙漠 (D)中國新疆的沙漠

32. 下列環境問題何者「不是」因為中亞人們大量引水開墾，發展灌溉農業所導致？

- (A)農業過度灌溉導致土壤鹽鹼化
(B)國家間為搶奪鹹海水源起衝突
(C)鹽塵暴嚴重威脅當地人民健康
(D)缺乏湖泊調節使地區氣候異常

33. 各種複雜的問題導致西亞各國衝突不斷，下列哪些國家間的衝突，主要是因為石油的問題而導致的？

- (A)伊拉克出兵攻打科威特的波斯灣戰爭
(B)以色列在加薩走廊與巴勒斯坦的戰爭
(C)以色列與周圍阿拉伯聯軍的以阿戰爭
(D)敘利亞執政者與反對者間暴發的內戰